

INSPECTION DE L'ÉDUCATION NATIONALE

CIRCONSCRIPTION STRASBOURG VI

ÉVALUATION EGPA

**FRANÇAIS
MATHÉMATIQUES**

2017


Cahier de l'élève

*Protocole d'aide à l'évaluation des élèves de CM2
susceptibles d'être orientés en EGPA.*

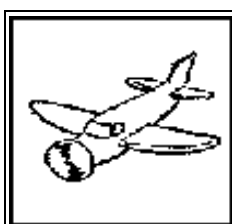
FRANCAIS

Exercice 01

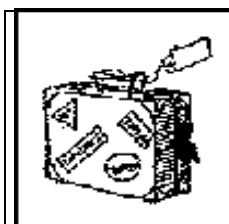
Entoure le mot qui va avec l'image.




ampoule
armure
poulet
maboule
poule



savon
avion
aviron
navion
savoir



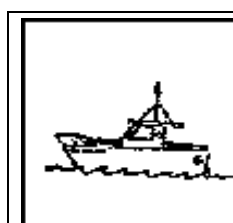
falije
falige
vilase
valise
valie



pain
nain
main
bain
faim



niche
fiche
riche
miche
poche




cadeau
battre
bateau
râteau
gâteau



genou
verrou
hiver
hibou
joujou



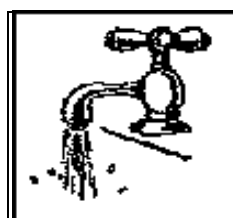
bain
pain
brun
pays
plein




monstre
moniteur
moite
montre
monde



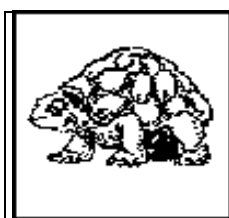
cage
cache
gache
gage
cave



rodinet
robimet
rodimet
robinet
robibet



tamdour
dambour
tamboir
tambrou
tambour



tordre
tortue
tourte
trotue
tordue



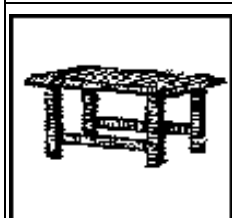
douche
bouche
bouge
douge
rouche



cloque
cloche
choque
chloque
chloche



panane
barane
bamane
baname
banane



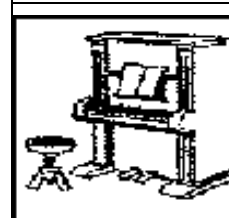
tadle
tarte
table
dable
dadle



zupe
jupe
chupe
gupe
fupe



bage
gaje
baque
bague
bake



panio
paino
piano
painio
pinoi

Exercice 02

Tu lis seul le texte et les consignes..



Lis le texte.

C'est la récréation.

Les enfants jouent dans la cour de l'école.

Nicolas saute sur Lucas: "Tu me fais mal !" crie Lucas.

Marie court après Bruno et Clara se colle à l'arbre.



Colorie Nicolas en bleu.



Entoure Clara.



Colorie les cheveux de Marie en jaune.




Colorie Lucas en rouge.



Ecris B sur Bruno.

...../10

Le koala



Le koala vit en Australie. C'est un animal au pelage gris clair qui ressemble à un ours en peluche.

Il vit dans les arbres. C'est un très bon grimpeur.

Il se nourrit de feuilles d'eucalyptus. Il mange la nuit et dort le jour.

Le koala ne boit jamais, mais parfois il lèche les feuilles des arbres qui sont mouillées.

Pendant six mois, le petit koala grandit dans la poche de sa mère. Puis il restera encore deux mois avec elle, accroché sur son dos. Elle le transportera partout de cette manière.

Questions:

1/ Dans quel pays vit le koala ?

2/ Que mange le koala ?

3/ Que boit le koala ?

4/ Le koala sait-il grimper aux arbres ?

5/ Où grandit le bébé koala ?

Exercice 04

ANATOLE et NATHALIE

Dans la classe d'avant, chacun avait sa table et sa chaise. Ici, on est assis par deux. Depuis hier matin, Anatole a une compagne de table. Nathalie a des cheveux courts, des petits yeux qui rient. Elle vient d'Orient, d'un pays où les gens ont la couleur dorée des feuilles en automne. Nathalie connaît tout par cœur: l'alphabet, les conjugaisons, les noms des fleurs, les additions, les centimètres, les kilos et les couleurs de l'arc-en-ciel. Elle sait même lire l'heure sur une montre qui n'a pas d'aiguille. Sur l'ordinateur de l'école, Nathalie a tapé au vol: "Bienvenue Anatole !"

Le petit Bob est jaloux. Il passe et repasse devant Nathalie, il lui offre des bonbons, un porte-clefs ballon et des autocollants de la Coupe du Monde. Nathalie les refuse. Elle lui crie, l'air coquin:

- Je ne collectionne que les méduses.

Le petit Bob n'apprécie pas qu'une fille le taquine. Il lui fait des pieds de nez. Mais Nathalie s'en moque.

Dans la salle de lecture, Nathalie se place près d'Anatole. Ils lisent le même album, ils se parlent tout bas. Tous deux rient en cachette. Le petit Bob est de plus en plus jaloux. Il embête Anatole, le bouscule, lui fait un croche-pied. Il lui chipe son cartable, son sac de gym, les vide dans l'escalier ou du côté des toilettes. Anatole n'a pas peur de Bob. Il lui montre les dents comme le chien de la boulangère quand il aperçoit le facteur. Nathalie console Anatole, l'embrasse sur les joues, l'embrasse sur le nez. Ses baisers sont aussi légers qu'une coccinelle posée sur une main.

Pierre Coran

1. Mets une croix dans la bonne case.

C'est l'histoire de....

- trois garçons
- trois filles
- deux garçons et une fille
- deux filles et un garçon

...../1

2. Qui est la meilleure amie d'Anatole ?

...../2

3. Mets une croix dans la bonne case.

Où se passe l'histoire ?

- dans un club sportif
- dans une école
- dans un jardin
- dans une librairie

...../1

4. Qui est jaloux ?

...../2

5. Nathalie connaît beaucoup de choses.

Donne au moins deux exemples choisis dans le texte.

...../2

6. Ecris d'où vient Nathalie.

...../1

7. Qui est l'auteur du texte ?

...../1

Total :/10

Exercice 05

Tu dois lire le mieux et le plus vite.

La varicelle

Cet après-midi, la maman de Marion est venue chercher sa fille à l'école car elle avait de la fièvre, et quelques boutons rouges sur le visage et les mains.

“Nous allons directement chez le docteur” dit maman.

Dans la salle d'attente, la petite fille, blottie dans les bras de sa mère, n'arrête pas de se gratter.

“C'est ton tour” dit le médecin à Marion.

Pour se faire examiner, la fillette enlève son pull.

Le médecin sourit en voyant le dos et le ventre de Marion garnis de petits boutons rouges.

“Hé bien, voilà une jolie varicelle ! Il faudra rester bien au chaud et prendre quelques médicaments pour éviter de te gratter.”

Au bout de quelques jours, Marion est guérie. Il lui reste trois cicatrices en souvenir des boutons qui la démangeaient vraiment beaucoup !

Mots lus	
Erreurs / oublis	
Score (Mots lus – Nb erreurs / oublis)	

.....

Exercice 06

Ecris une phrase qui raconte chaque dessin.



...../2,5



...../2,5



...../2,5



...../2,5


Total :/10

Exercice 07

Raconte l'histoire en t'aidant des 3 images. Tu peux t'aider des mots suivants :

Cosmonaute – fusée – décoller ou décollage.

...../10



Exercice 08

Ecris les mots que te dicte le maître.

1	
2	
3	
4	
5	
6	

7	
8	
9	
10	
11	
12	

...../6

Exercice 09

Complète les phrases que te dicte le maître.

Mardi, il ira _____ le médecin.

Je ne regarde _____ la télévision.

Il est sage _____ une image.

Adeline travaille _____ bien en classe.

Le beurre est _____ le frigo.

J'ai invité _____ de monde pour mon anniversaire.

Nous avons raté le bus _____ nous sommes partis en retard de la maison.

_____ iras-tu la voir ?

_____, le maître sera absent toute la journée.

_____ coûte ce disque ?

...../5

Exercice 10

Dictée. Ecris sur les lignes.

...../4

Exercice 11

Complète les phrases suivantes par l'un des mots entre parenthèses.

- (ont / on) Ici, _____ n'a pas le droit de boire.
- (est / et) Elle _____ habillée avec un pull rouge _____ bleu.
- (à / a) Il _____ mangé des pâtes _____ la sauce tomate.
- (ou / où) Je ne sais plus _____ Marc a rangé ses affaires.
- (son / sont) Fabienne a perdu _____ cahier et _____ stylo.
- (sont / ont) Les enfants _____ partis et ils _____ mangé des glaces à la vanille.

...../5

Exercice 12

Dans chaque liste ci-dessous, il y a un intrus. Barre-le.

LISTE 1

noir
jaune
violet
école
rouge
gris

LISTE 2

camion
tram
cerf-volant
train
autobus
mobylette

LISTE 3

souris
hibou
mouette
canard
pigeon
perroquet

LISTE 4

lampe
chaise
canapé
fauteuil
tabouret
banc

...../4

Exercice 13

Réécris les mots suivants dans l'ordre alphabétique.

courir – sauter – lancer – grimper – nager

...../1

pomme – poire – orange – pêche – banane

...../1

Exercice 14

Entoure les noms.

Mon frère regarde la télévision.

Ali voit un oiseau dans l'arbre.

...../5

Exercice 15

Entoure les verbes.

Mon frère regarde la télévision.

Ali voit un oiseau dans l'arbre.

...../2

Exercice 16

Entoure chaque fois, parmi les trois propositions, celle qui est exacte.

LES LIONS

Les lions ne

vives
vive
vivent

 jamais au cœur d'une épaisse forêt.

Ils

préfèrent
préfère
préfères

 de vastes espaces comme la savane. Là, leur pelage se

confond avec les hautes

arbuste
plante
herbes

 brûlées par le soleil.

La crinière

protègent
protège
protèges

 la gorge du lion des mauvais coups.

Elle sert aussi à intimider ses ennemis

habituel
habituelle
habituels

 : en la gonflant,

le lion paraît plus fort et

évite
évites
évitent

 parfois

le
la
les

 combat.

...../7

Exercice 17

Indique pour chaque phrase, si elle est conjuguée au passé, au présent, ou au futur :

Nous irons au cinéma pendant les grandes vacances. _____

Lucie pensait avoir la bonne réponse. _____

Qu'est-ce que vous faites sous la table ? _____

La prochaine épreuve sera plus difficile que les précédentes. _____

...../4

Exercice 18

Copie le texte suivant, en respectant la ponctuation. Soigne ta présentation

C'était l'heure d'emmener Victoria, notre labrador de pure race, et Charles, notre fils, faire une promenade matinale. Nous entrâmes dans le parc, et je libérai Victoria de sa laisse, quand, brusquement, un vulgaire bâtard surgit et commença à l'importuner. Je le chassai, mais le misérable corniaud se mit à poursuivre Victoria à travers tout le parc. Je lui ordonnai de partir, mais la sale bête m'ignora complètement.

...../6

MATHEMATIQUES

Exercice 01

Ecris les nombres que te dicte le maître.

...../5

Exercice 02

Relie les mêmes nombres écrits en chiffres et en lettres.

74	*	* quatre-vingt douze
92	*	* quatre cent douze
120	*	* mille sept cent quarante-deux
412	*	* soixante-quatorze
1 742	*	* cent vingt

...../2,5

Exercice 03

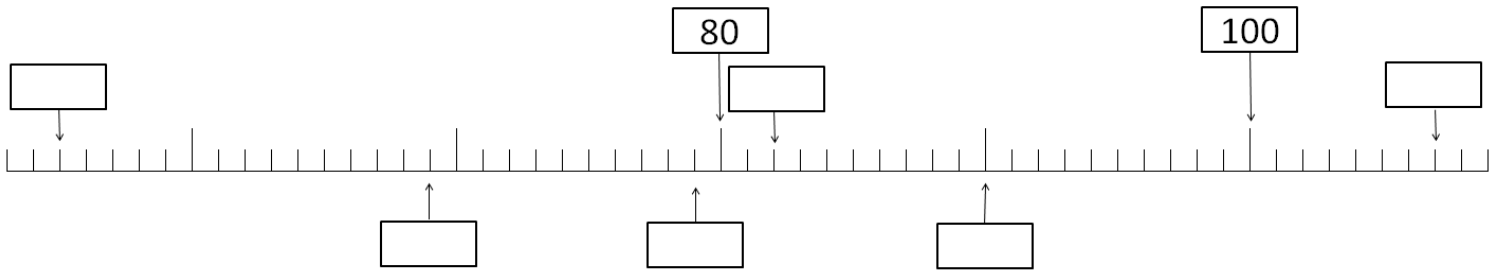
Ecris les nombres suivants en chiffres.

cinquante-sept		quatre cents	
quatre-vingt-douze		mille deux cent vingt	
cent quatre			

...../2,5

Exercice 04

On a placé 2 nombres sur la droite numérique.



Place dans les carrés les 5 nombres suivants:

79 90 107 55 82

Attention: un carré doit rester vide.

...../3

Exercice 05

Complète avec le signe qui convient: < > =

69 89

572 + 84 572 + 118

98 89

28 - 10 38 - 10

80 + 11 91

63 + 28 53 + 38

...../3

Exercice 06

Décompose les nombres sous la forme suivante :

Exemple : 183 = 100 + 80 + 3

72 =

316 =

508 =

1 234 =

...../2

Exercice 07

Recompose.

Exemple : $700 + 20 = 720$

$$90 + 7 =$$

$$100 + 40 + 9 =$$

$$500 + 400 =$$

$$1\ 000 + 20 + 3 =$$

...../2

Exercice 08

Complète

Le double de 5 est

Le double de 7 est

La moitié de 10 est

La moitié de 16 est

...../2

Exercice 09

Complète les tables de multiplication suivantes :

$$2 - 4 - 6 - 8 - 10 - \dots - \dots - \dots - \dots - 20$$

$$5 - 10 - 15 - 20 - \dots - \dots - \dots - \dots - 50$$

$$10 - 20 - 30 - 40 - \dots - \dots - \dots - \dots - 100$$

$$3 - 6 - 9 - 12 - \dots - \dots - \dots - \dots - 30$$

...../4

Exercice 10

Calcule dans ta tête et écris les résultats.

--	--	--	--	--	--

...../3

Ecris les résultats des calculs

$2 + 3 =$	$4 + 1 =$	$5 + 3 =$	$2 + 7 =$
$1 + 16 =$	$12 + 8 =$	$30 + 40 =$	$100 + 5 =$

...../4

Exercice 11

Effectue ces additions sans les poser.

$32 + 21 =$

$50 + 39 =$

$74 + 25 =$

$18 + 81 =$

$120 + 43 =$

$89 + 11 =$

...../3

Exercice 12

Pose les opérations et calcule.

$120 + 358 =$

$372 + 258 =$

$285 + 64 =$

$7 + 67 + 136 =$

...../4

Exercice 13

Pose les opérations et calcule.

$986 - 325 =$	$425 - 291 =$	$635 - 287 =$	$960 - 834 =$
---------------	---------------	---------------	---------------

...../4

Exercice 14

Effectue les opérations suivantes (tu peux les poser)

$129 + 45 =$	$23 - 2 =$	$152 - 18 =$
$32 \times 2 =$	$23 \times 3 =$	$32 \times 25 =$

...../6

Exercice 15

Problème 1.

Julie a 24 œufs.

Elle veut les ranger dans des boites.

Une boite pleine contient 6 œufs.

Combien de boites peut-elle remplir entièrement ?

Utilise ce cadre pour faire les recherches

Elle peut remplir _____ boites entièrement.

...../3

Problème 2.

Voici les pièces et les billets contenus dans le porte-monnaie de Mathilde:



Combien Mathilde a-t-elle d'euros dans son porte-monnaie ?

...../2


Problème 3.

Paul doit payer 27 € avec ce qu'il a dans son porte-monnaie.

Indique le nombre de pièces et le nombre de billets que Paul peut utiliser pour faire juste 27 €.

Tu peux utiliser ce cadre pour faire tes recherches

Pour avoir 27€, il faut :

.....	billets de	
.....	billets de	
.....	pièces de	
.....	pièces de	

...../2

Problème 4.

Un pâtissier a préparé 275 croissants le matin.
A midi, il lui en reste 86.
Combien de croissants a-t-il vendus ?

Phrase réponse :

...../3

Problème 5.

Un jardinier a planté 4 rangées de 12 salades.
Combien a-t-il planté de salades ?

Phrase réponse :

...../3

Problème 6.

Dans une ville, il y a 3 écoles. Dans la première, on compte 154 élèves; dans la deuxième, 96 élèves; dans la troisième, 207 élèves.
Combien y a-t-il d'élèves dans cette ville ?

Phrase réponse :

...../3

Total :/16

Exercice 16

Ce tableau indique les activités pratiquées par cinq enfants d'une même classe. Observe-le et réponds aux questions.

	Natation	Badminton	Football	Peinture	Musique
Lucie		X		X	X
Hamza		X	X		
Elif	X	X			
Quentin				X	X
Amina		X	X		X

Quelles sont les activités pratiquées par Amina ?

Quels sont les enfants qui pratiquent le badminton ?

Qui ne pratique aucune activité artistique ?

Quels sont les enfants qui participent à 3 activités ?

...../4

Exercice 17

a. Dans ce cadre, trace avec les bons outils un carré de 4 cm de côté.




...../2,5

b. Dans ce cadre, trace avec les bons outils un rectangle de 5cm de longueur et de 3 cm de largeur.



...../2,5

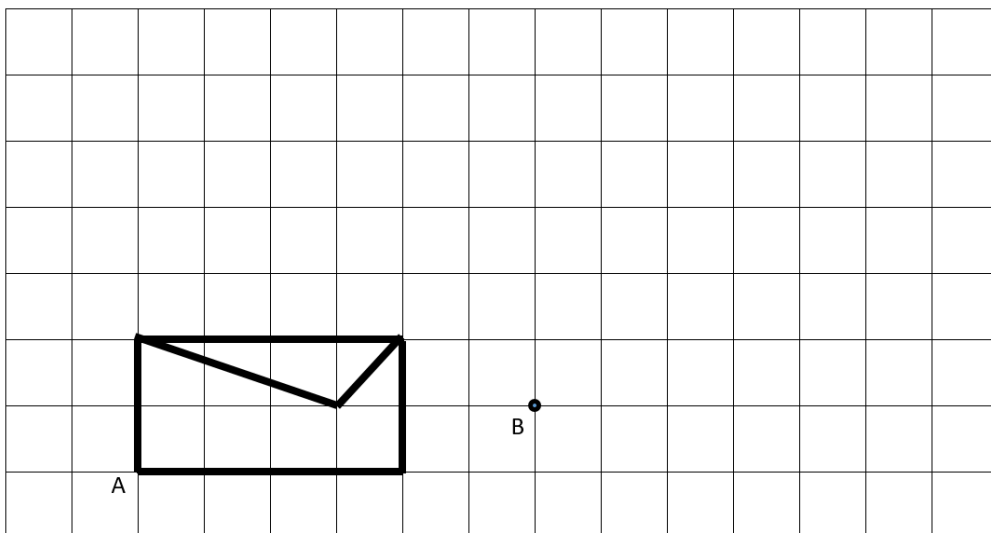
c. Dans ce cadre, trace avec les bons outils un cercle de 4 cm de rayon et de centre C.



...../2

Exercice 18


On a dessiné une enveloppe à partir du point A.
Trace à la règle la même enveloppe en partant du point B.




...../3


Exercice 19

Mesure les segments et écris leur longueur.

a. 

b. 

c. 

d. 

e. 

Exercice 20

Trace les segments selon les longueurs données en partant des points.

a. •

b. •

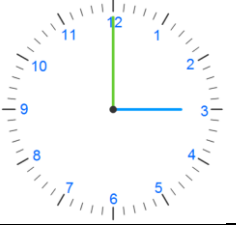
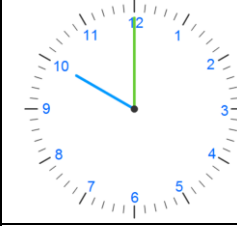
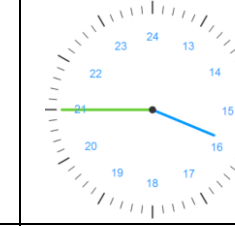
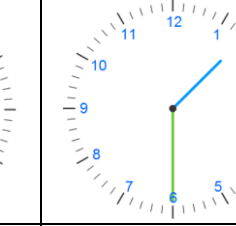
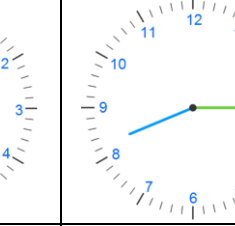
c. •

d. •

e. •

Exercice 21

Ecris l'heure sous chaque pendule.

				
h	h	h	h	h

...../2,5

Exercice 22

Complète.

Je suis né (e) le _____

Aujourd'hui, nous sommes le _____

Demain nous serons le _____

Avant-hier, nous étions le _____

Ecris la date en entier :

13/05/17 _____

01/11/14 _____

...../6